



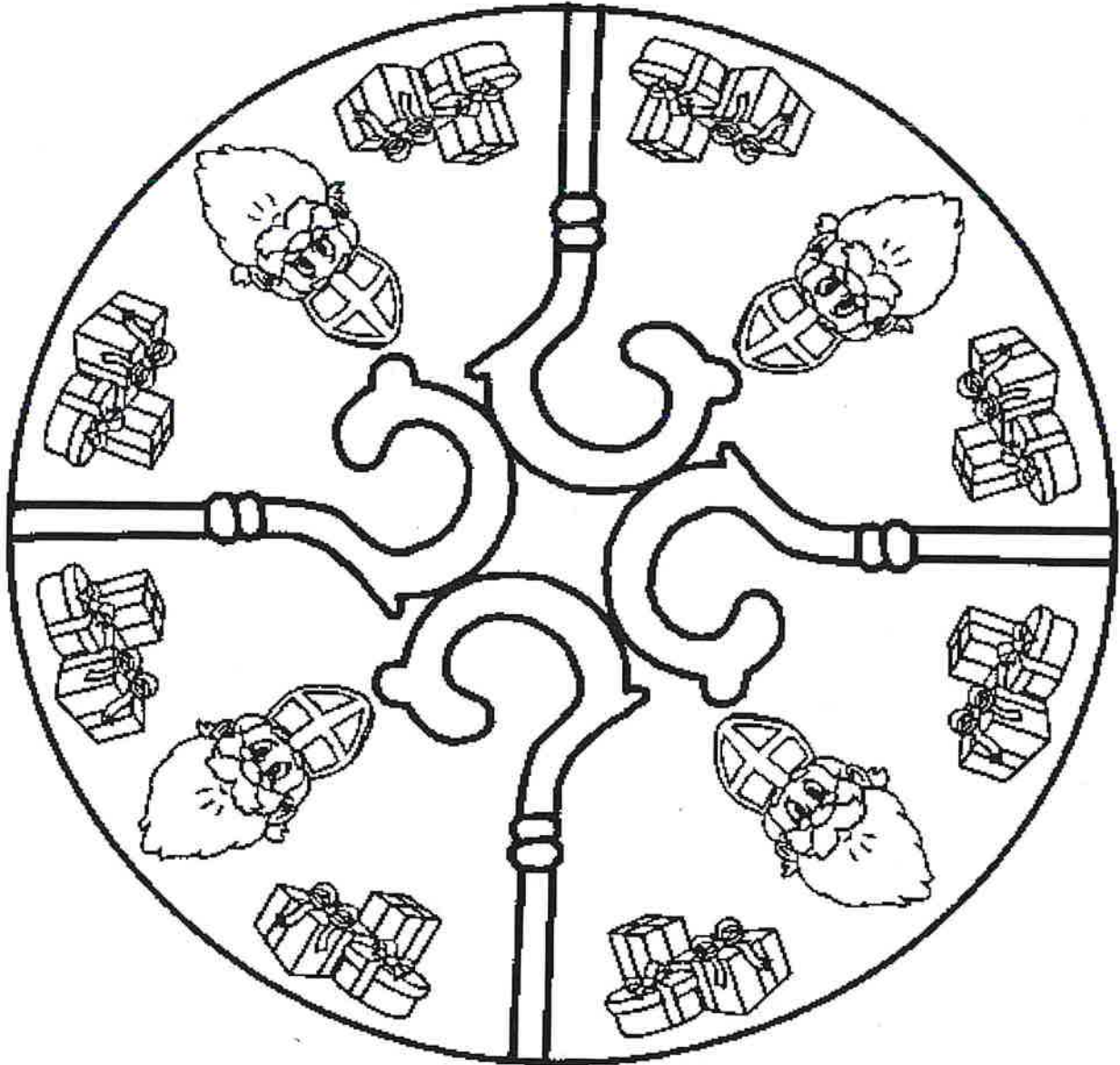
Sinterklaas werkboekje Groep 4

Naam: _____



Mandala

Kleur deze mandala zo mooi mogelijk in.



Liedje invullen

Hoor de waait door de bomen.

Hier in zelfs waait de wind.

Zou de Sint wel komen,

Nu hij 't weer zo vindt.

Nu hij 't zo lelijk vindt.

Ja, hij rijdt in donk're

Op zijn, oh zo snel.

Als hij wist hoe zeer wij

Ja gewis, dan hij wel.

Ja, dan kwam hij wel!



P

M

Sommen

$10+60=$

$10+10=$

$50+50=$

$20+30=$

$80+10=$

$20+10=$

$30+20=$

$40+50=$


$40+30=$

$50+10=$

$40+20=$

$40+40=$

$30+30=$



$100-90=$

$90-50=$

$80-20=$

$70-40=$

$50-30=$

$20-20=$

$30-10=$

$90-70=$

$70-10=$

$50-40=$

$40-20=$

$80-50=$

$100-20=$





Teken wat je leest

Lees het verhaal en geef de tekening de goede kleur

Sinterklaas trok van morgen zijn feest mijter aan
Hij is rood met gele stippen en er zitten 4 mooie strikjes aan
Hij heeft roze wangen van het varen op zee
En nam uit Spanje ook vier pakjes mee
Een groene, rode, gele en de laatste is blauw
Maar welk pakje is voor jou?
Van links naar rechts gaan we nu snel
Als je ze gekleurd hebt dan weet je het wel
Links een pakje helemaal groen, behalve dan die oranje bloem
Daarnaast de rode met het roze lint, die is ook voor een ander kind
Van het gele pakje kleur je het lint maar snel oranje
En dat laatste blauwe pakje kwam voor jou mee uit Spanje
Het lint mag paars en de bloem mag groen
Dat vond Sint leuk om te doen



Sinterklaas woorden

Trek een lijn van het woord naar het plaatje en schrijf het woord over

marsepein



chocolade munten



chocolade melk



Sinterklaas journaal



erwtensoep



5 december



strooigoed



chocolade letter




taaitaai



speculaas

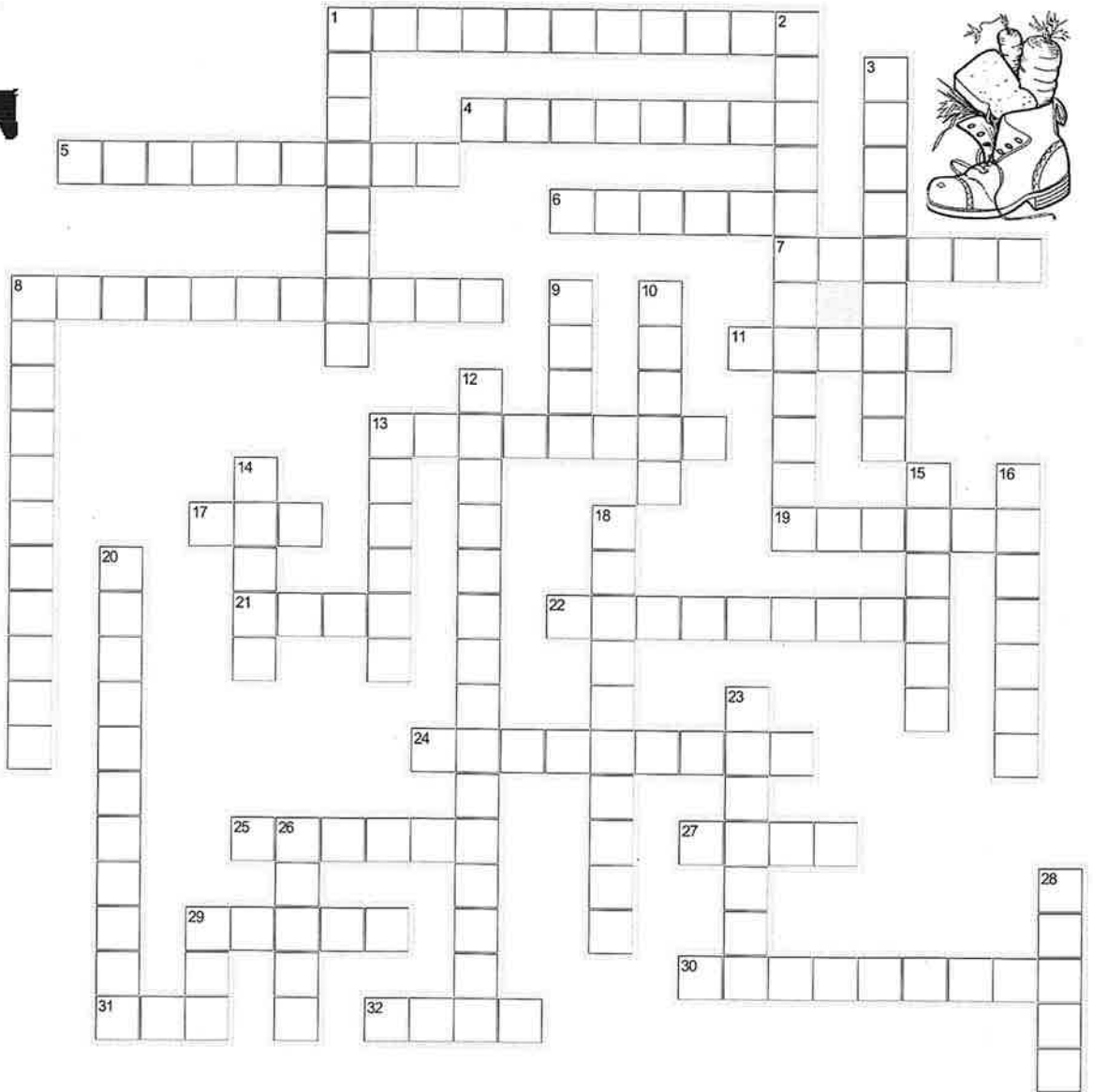


verhaal



legwoord

De woorden onder en naast het invul vak moet je invullen. Er staat steeds bij hoeveel letters een woord heeft. De ij staat in één hokje. Werk met potlood !!



3 LETTERS

- DAK
- ROE
- ZAK

4 LETTERS

- ALBE
- MYRA
- PIET
- RAAM
- STAF

5 LETTERS

- BARET
- BOMEN
- MIJTER
- PAARD
- WODAN
- ZWART

6 LETTERS

- CADEAU
- LIEDJE
- MANTEL
- PATARA
- SCHOEN
- SPANJE

7 LETTERS

- GEDICHT
- TABBERD

8 LETTERS

- SCHIMMEL
- STROOIEN
- SURPRISE

9 LETTERS

- KRUIDNOOT
- MARSEPEIN
- PEPERNOOT
- STOOMBOOT
- ZEELIEDEN

11 LETTERS


- PAKJESAVOND
- SCHOORSTEEN
- SINTERKLAAS
- SUIKERBEEST

12 LETTERS

- SPECULAASPOP


15 LETTERS

- CHOCOLADELETTER



Tip: Begin met de enkele woorden.
De ij is 1 hokje.

Geheime tekening



Reken de verhaaltjessommen uit.

Welk antwoord is goed?

Omcirkel eerst het goede antwoord.

Geef daarna de letter van de vraag de goede kleur.

A	E	G	E	G	L	L	L	G	B	A	L	L	E	A	L	B	E	A
E	B	E	G	E	L	G	A	G	H	L	G	L	E	B	L	L	L	E
A	E	G	E	L	E	L	L	O	O	O	L	G	L	G	L	B	L	B
B	L	L	A	A	G	E	O	H	C	H	O	G	L	L	A	L	L	E
B	L	G	E	L	L	O	H	N	N	N	O	H	G	L	E	L	E	B
E	G	G	L	L	G	H	O	O	C	O	O	O	L	E	L	L	A	B
B	L	E	L	A	E	O	H	O	C	H	H	O	L	G	L	B	L	A
E	L	E	L	L	L	O	O	H	O	H	O	O	G	G	B	L	A	E
L	L	G	L	L	A	H	M	M	M	M	M	H	A	G	G	L	L	G
L	L	L	L	L	F	J	M	K	M	K	M	J	J	E	L	G	L	G
B	L	E	L	L	J	F	M	M	M	M	M	F	J	L	G	L	L	E
A	L	E	L	A	J	J	J	J	J	J	F	J	F	G	L	A	L	E
L	L	E	L	G	F	F	J	F	H	J	F	J	F	G	G	L	B	L
L	A	E	E	E	J	J	F	J	F	J	F	J	J	L	L	L	A	A
E	L	L	L	H	O	J	J	J	J	J	J	J	O	O	E	G	L	G
L	A	E	O	O	H	O	F	F	J	F	J	O	H	O	O	E	G	L
L	L	O	O	O	H	H	H	J	F	J	O	O	H	O	O	H	E	A
L	H	O	H	J	O	D	I	I	I	D	I	I	H	F	O	H	O	A
G	O	O	F	J	M	I	I	D	D	I	D	I	M	J	F	H	O	L
B	G	H	J	F	M	M	I	I	D	I	I	M	M	J	J	H	E	B

Verhaaltjessommen

A. Piet bakt 12 pepernoten. De helft van de pepernoten is verbrand.
Hoeveel pepernoten zijn verbrand?

6 pepernoten

12 pepernoten

24 pepernoten

7 pepernoten

B. Piet heeft 14 euro in zijn spaarpot. Hij doet er 20 euro bij.
Hoeveel euro zit er dan in de spaarpot?

43 euro

24 euro

44 euro

34 euro

C. Piet telt eerst 12 pakjes. Daarna telt hij er nog eens 12.
Hoeveel pakjes zijn dat samen?

12 pakjes

22 pakjes

24 pakjes

26 pakjes

D. Sinterklaas heeft 10 rode, 11 groene en 6 blauwe pakjes.
Hoeveel pakjes zijn dat samen?

37 pakjes

17 pakjes

26 pakjes

27 pakjes

E. Tom heeft 54 pepernoten. Hij eet er 6 op.
Hoeveel pepernoten houdt hij over?

59 pepernoten

60 pepernoten

48 pepernoten

49 pepernoten

F. Om 10 uur vertrekt de stoomboot. Het is nu half 10.
Over hoeveel minuten vertrekt de stoomboot?

10 minuten

15 minuten

30 minuten

60 minuten

Verhaaltjessommen

G. Mees heeft 18 pepernoten. Joep heeft er 12.
Hoeveel pepernoten heeft Mees er meer dan Joep?

5 pepernoten

6 pepernoten

10 pepernoten

30 pepernoten

H. In één zak passen 10 pakjes. Piet heeft 4 zakken.
Hoeveel pakjes heeft Piet?

30 pakjes

40 pakjes

14 pakjes

44 pakjes

I. Sint leest in zijn grote boek op bladzijde 25. Hij wil lezen tot bladzijde 40.
Hoeveel bladzijdes moet Sint nog lezen?

15 bladzijdes

10 bladzijdes

25 bladzijdes

65 bladzijdes

J. Één letter kost 2 euro. Piet koopt 3 letters.
Hoeveel euro moet Piet betalen?

5 euro

6 euro

7 euro

8 euro

K. Er zijn 16 pakjes. De helft van de pakjes raakt kwijt.
Hoeveel pakjes blijven over?

6 pakjes

8 pakjes

10 pakjes

32 pakjes

L. Piet heeft 30 pakjes. Hij doet steeds 10 pakjes in een zak.
Hoeveel zakken heeft Piet nodig?

3 zakken

5 zakken

10 zakken

40 zakken

Verhaaltjessommen

M. Ali heeft 9 snoepjes gekregen. Lotte heeft er twee keer zo veel gekregen. Hoeveel snoepjes heeft Lotte gekregen?

7 snoepjes

11 snoepjes

18 snoepjes

19 snoepjes

N. Pietje Pim heeft 15 pakjes. Hij doet steeds 5 pakjes in een zak. Hoeveel zakken heeft hij nodig?

20 zakken

5 zakken

10 zakken

3 zakken

O. Sint en Piet gaan vandaag bij 28 huizen langs. Ze hebben al 17 huizen gehad. Bij hoeveel huizen moeten ze nog langsgaan?


44 huizen

45 huizen

9 huizen

11 huizen

Klaar? Oefen meer verhaaltjessommen op www.verhaalsommen.nl.





Teken wat je leest

Lees het verhaal en geef de tekening de goede kleur

Ojee wat zal ik nu toch doen?
Ik zet mijn klomp en niet mijn schoen
Mijn klomp is geel met een paarse bloem
En de blaadjes zijn natuurlijk groen
In mijn klomp doe ik twee oranje wortels met groene sprietten
Dan kan het paard daarvan genieten
Ook mijn lijstje doe ik erbij
Van de chocolade letter werd Piet heel blij
Het was namelijk zijn favoriet
Van witte chocolade met gekleurde smarties zoals je ziet
Nu maar hopen dat hij zo mijn klomp vult met een mooi kado
Of pepernoten strooit in het rond
Ik teken er alvast acht op de grond





Teken wat je leest

Lees het verhaal en geef de tekening de goede kleur

Wat zie ik daar?

Een bruine zak voor jou meegenomen

Daar kan je alleen van dromen

Op de voorkant van de zak staat jouw naam

Het lint is geel en is open gegaan

De twee kadootjes vallen bijna op de grond

En tien pepernoten vliegen in het rond

In de zak zit een rood kado en één in het blauw

Allebei met een groen lint, kleur dat maar gauw

Ook viel een teddybeer uit de zak

Die zit op de grond op zijn gemak

Is er nog iets wit in de tekening of helemaal niet?

Dan heb je het goed gedaan volgens Piet!




puzzels



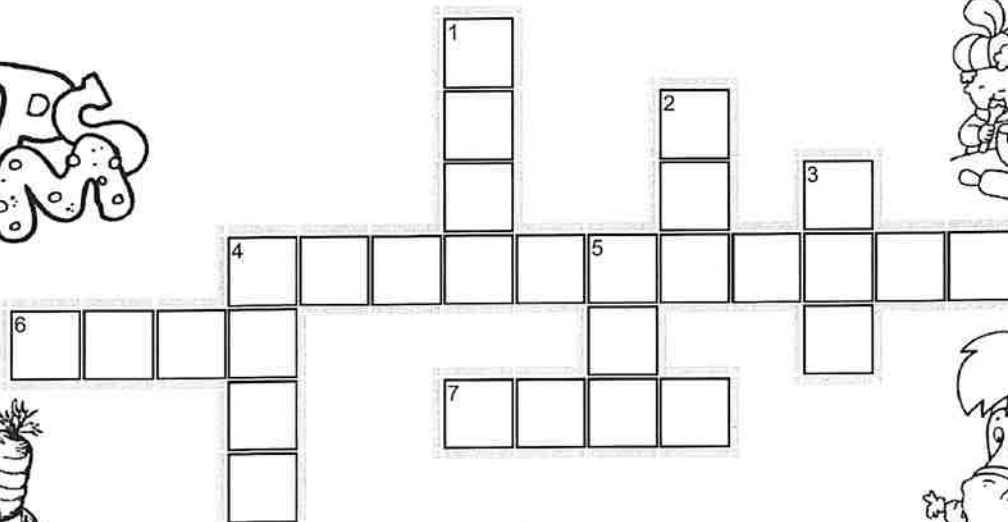
kruiswoordpuzzel

De woorden die je moet invullen zijn plaatjes. Vul de naam in bij het juiste cijfer.

4. ➡ 1. ↓ 2. ↓ 4. ↓ 6. ➡ 3. ↓ 5. ↓ 7. ➡



ACM







woordendoolhof



Volg het woordje 'piet' tot je er weer uit bent.
Hoeveel keer staat het woordje 'piet' op de goede weg?



Welke schaduw hoort bij welk plaatje?




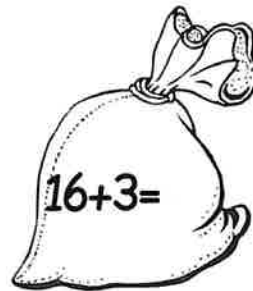

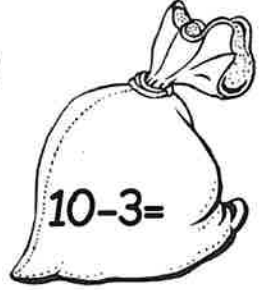
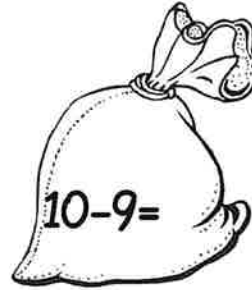
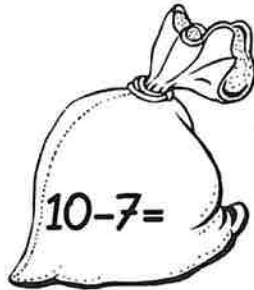
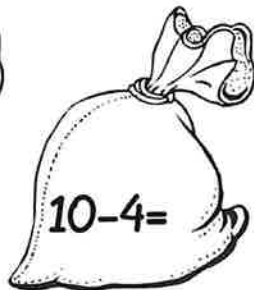
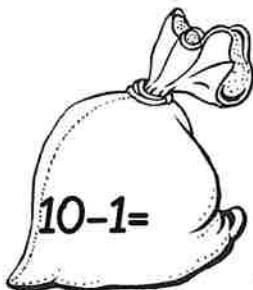
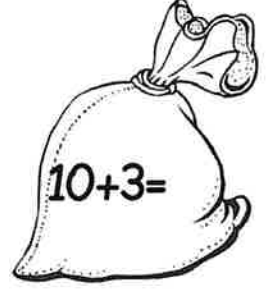
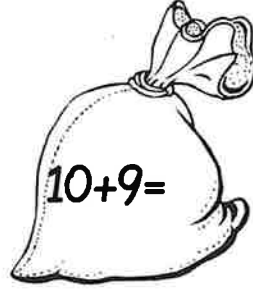

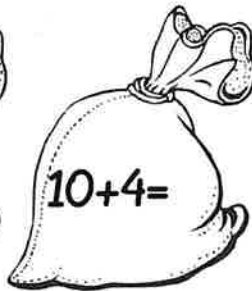
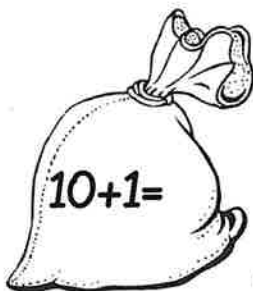
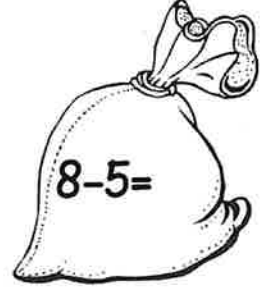
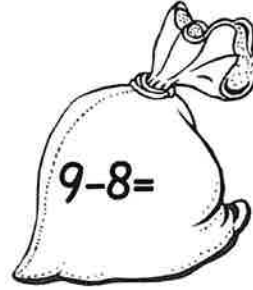
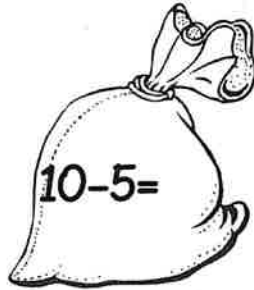
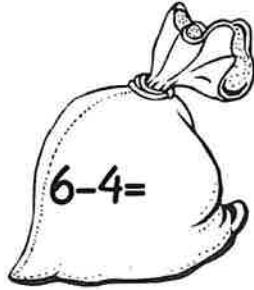
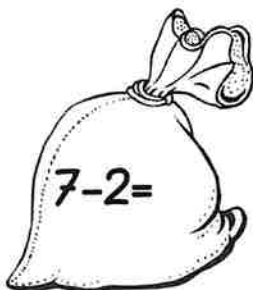
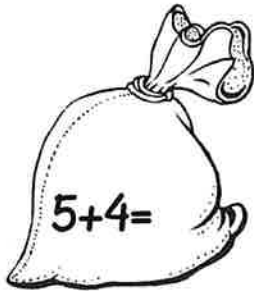
pepernoot-sommen

Reken - Piet brengt geen pakjes maar sommen.

Dat is raar!

Weet jij de som?

Schrijf het antwoord er maar bij.



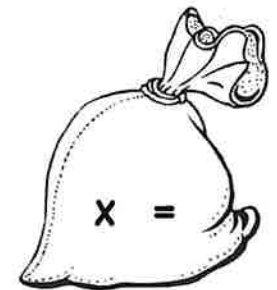
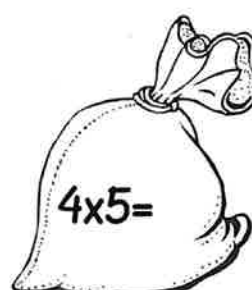


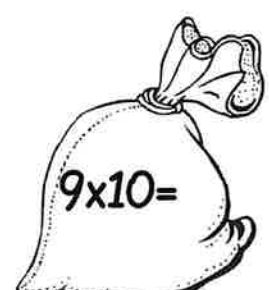


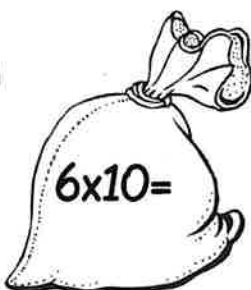
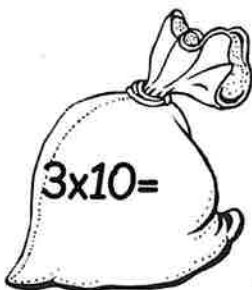
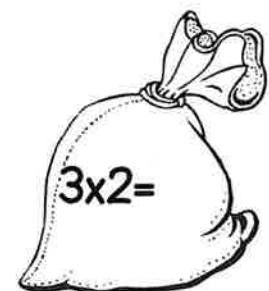
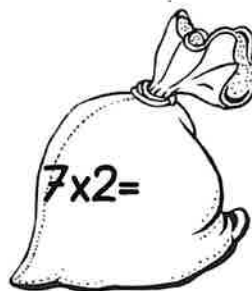
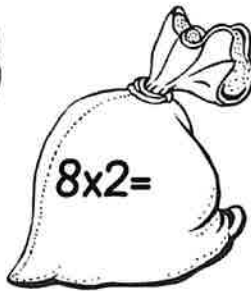
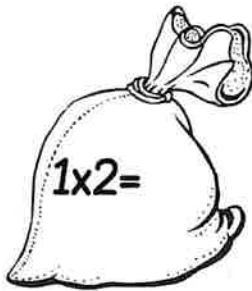
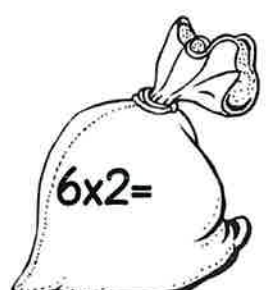
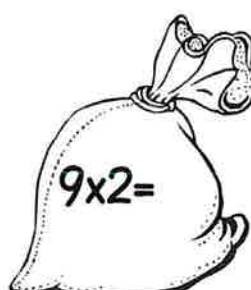
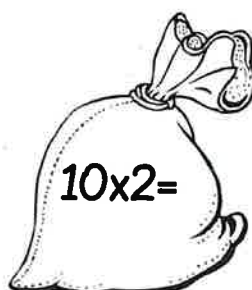
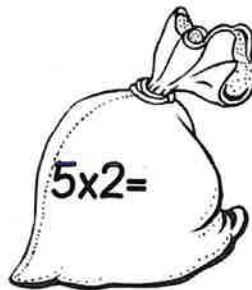
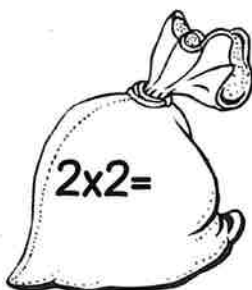
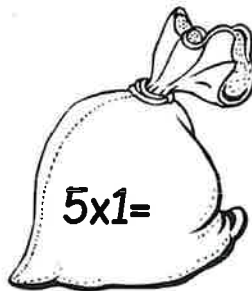
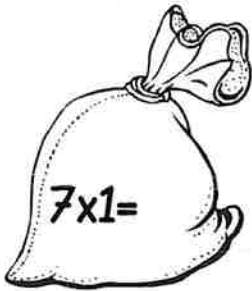
pepernoot-sommen

Reken - Piet brengt geen pakjes maar sommen.

Dat is raar!

Weet jij de som?


Schrijf het antwoord er maar bij.



Maak zelf een som.

Geheime tekening

Reken de sommen uit.
 Wat is het goede antwoord?
 Kijk in de tabel.
 Geef het vakje de juiste kleur.
 Er komt een tekening tevoorschijn!




Antwoord	Kleur
0	zwart
1 tot en met 5	lichtroze
6 tot en met 10	geel
11 tot en met 15	rood
16 tot en met 19	lichtblauw
20	wit

8+8	20-3	9+7	6+11	19-2	20-4	9+10	19+0	9+8	19-2	9+7	7+10	20-3	3+14	13+5	10+8	9+8	11+6	3+14
8+10	3+4	8+0	13-4	12-5	12+6	7+10	1+18	3+14	15+3	10+8	7+10	8+9	9+9	8+10	12+5	9+7	20-4	19-2
7+9	14-6	3+14	19-2	1+9	8+8	13+5	9+7	1+17	9+9	5+6	16+1	3+14	20-4	9+10	10+9	12+6	16+0	8+9
13+5	3+7	4+3	20-4	5+3	20-3	2+14	3+13	4+15	2+11	18-4	4+7	4+15	17+2	1+17	8+8	12+6	19-3	2+16
12+6	11+6	19-2	14+2	12-6	12+6	2+16	20-3	1+13	6+6	3+3	8+7	1+13	20-3	9+8	4+15	17+0	12+6	11+6
8+9	20-4	3+6	14-7	19-0	14+4	20-1	20-2	6+7	3+7	12-5	14-7	15+0	3+14	12+5	19-2	6+11	20-1	20-3
19-2	2+3	2+8	6+11	7+10	13+5	8+8	9+8	19-5	2+12	2+8	19-5	8+6	9+8	11+8	8+10	7+10	6+10	9+9
7+9	10+0	1+4	12-8	19-2	19+0	7+9	14+4	1+1	7-7	13-11	0+0	9-5	7+9	14+4	8+8	12+6	19-2	8+8
20-3	14-7	1+2	11-9	11+9	6+6	12+6	4+15	4+1	7-3	8-4	8-7	10-6	20-4	9+10	19-5	3+17	10-7	6+12
15-7	8+8	12+8	6+14	8+4	18-4	9+9	15-2	19+1	12-7	19-8	2+2	18+2	7+7	2+12	4+8	20+0	13-9	10-8
11-3	3+14	11+3	16-4	2+12	7+7	13-1	8+5	8+12	20-0	7+13	8+12	6+14	3+10	20-5	18-5	6+14	15+5	6-4
19-2	20-1	13-0	7+8	20-8	20-6	5+10	19-8	7+13	15+5	3+17	20+0	17+3	20-6	3+9	16-3	15-0	16+4	6+11
9+9	12+6	14+1	14-2	3+11	6+8	18-5	11+9	14+6	5+15	8+12	18+2	2+11	15-4	16-2	20-9	5+7	20-4	20-1
20-4	18+0	5+7	18-5	5+9	6+5	12+0	5+15	9+11	16+4	9+11	8+7	15-2	2+10	3+11	4+9	18-4	9+10	8+8
8+9	18-2	9+7	15+4	17-3	6+7	7+7	18-6	6+8	2+10	20-8	7+7	5+9	20-4	20-3	13+5	18+0	19-2	3+14
18-1	2+16	8+10	20-3	19-1	17-6	19-7	5+8	19-7	17-4	6+6	4+9	17-5	9+9	19-3	4+15	12+6	9+9	8+9
9+9	19-2	9+10	19-0	6+11	8+8	6+7	17-3	3+9	16-7	4+9	20-7	18-3	16+0	11+6	8+8	12+4	19-2	5+12
18-2	12+6	19-2	8+8	9+8	6+12	18-5	5+8	13-5	13-3	18-9	3+10	8+5	9+7	2+16	15+2	4+14	20-4	12+6
3+14	20-3	8+9	19-0	4+15	4+10	6+5	13-6	5+4	15-8	2+6	15-7	20-9	15+4	12+6	2+15	9+10	17+0	20-3
7+9	17+0	11+6	19-2	12-1	10+4	5+9	12-3	15-6	1+9	3+6	12-2	2+9	10+3	3+14	9+9	13+5	19-2	8+8



Kleuren op nummer



Reken de som uit en kleur het antwoord met de goede kleur



Naam: _____

Puzzel

Breng jij Amerigo bij de wortels?



Naam: _____

Puzzel

Help jij Sinterklaas zijn grote boek vinden?



Naam: _____

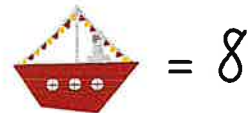
Puzzel

Help jij Sinterklaas zijn grote boek vinden?





Naam: _____



Geheime plus sommen





Schrijf de som op en reken hem uit

1  +  = _____

2  +  = _____

3  +  = _____

4  +  = _____

5  +  = _____


Uitdaging

 +  = _____

Naam: _____

Geheime min sommen

 = 18

 = 16

 = 7

 = 4

 = 3

Schrijf de som op en reken hem uit

1



-  = _____

2



-  = _____

3



-  = _____

4



-  = _____

5



-  = _____

Uitdaging




-  = _____


Naam: _____


Geheime plus en min sommen

 = 14



 = 12



 = 6

 = 3

 = 2



Schrijf de som op en reken hem uit

1  -  = _____

2  +  = _____

3  -  = _____





4  +  = _____

5  -  = _____

Uitdaging

 -  = _____

Samen 10







1	
---	--

9	
---	--

3	
---	--

6	
---	--







4	
---	--

7	
---	--

2	
---	--

3	
---	--




9	
---	--

5	
---	--


8	
---	--

6	
---	--

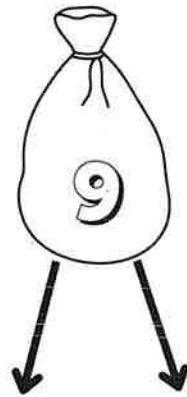
Splitssommen tot 10




1	
---	--




6	
---	--




3	
---	--




6	
---	--




4	
---	--




1	
---	--




2	
---	--



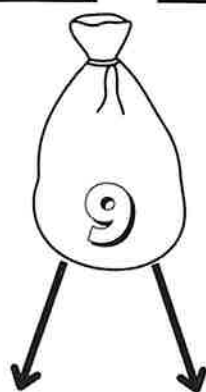
2	
---	--




9	
---	--



5	
---	--







5	
---	--



3	
---	--

Splitssommen tot 20







11	
----	--

14	
----	--

10	
----	--

16	
----	--







4	
---	--

6	
---	--

12	
----	--

10	
----	--



12	
----	--

16	
----	--

15	
----	--

14	
----	--

Geheime tekening



Reken de verhaaltjessommen uit.

Welk antwoord is goed?

Omcirkel eerst het goede antwoord.

Geef daarna de letter van de vraag de goede kleur.

A	E	G	E	G	L	L	L	G	B	A	L	L	E	A	L	B	E	A
E	B	E	G	E	L	G	A	G	H	L	G	L	E	B	L	L	L	E
A	E	G	E	L	E	L	L	O	O	O	L	G	L	G	L	B	L	B
B	L	L	A	A	G	E	O	H	C	H	O	G	L	L	A	L	L	E
B	L	G	E	L	L	O	H	N	N	N	O	H	G	L	E	L	E	B
E	G	G	L	L	G	H	O	O	C	O	O	O	L	E	L	L	A	B
B	L	E	L	A	E	O	H	O	C	H	H	O	L	G	L	B	L	A
E	L	E	L	L	L	O	O	H	O	H	O	O	G	G	B	L	A	E
L	L	G	L	L	A	H	M	M	M	M	M	H	A	G	G	L	L	G
L	L	L	L	L	F	J	M	K	M	K	M	J	J	E	L	G	L	G
B	L	E	L	L	J	F	M	M	M	M	M	F	J	L	G	L	L	E
A	L	E	L	A	J	J	J	J	J	J	F	J	F	G	L	A	L	E
L	L	E	L	G	F	F	J	F	H	J	F	J	F	G	G	L	B	L
L	A	E	E	E	J	J	F	J	F	J	F	J	J	L	L	L	A	A
E	L	L	L	H	O	J	J	J	J	J	J	J	O	O	E	G	L	G
L	A	E	O	O	H	O	F	F	J	F	J	O	H	O	O	E	G	L
L	L	O	O	O	H	H	H	J	F	J	O	O	H	O	O	H	E	A
L	H	O	H	J	O	D	I	I	I	D	I	I	H	F	O	H	O	A
G	O	O	F	J	M	I	I	D	D	I	D	I	M	J	F	H	O	L
B	G	H	J	F	M	M	I	I	D	I	I	M	M	J	J	H	E	B

Verhaaltjessommen

A. Piet bakt 64 pepernoten. De helft van de pepernoten is verbrand. Hoeveel pepernoten zijn verbrand?

32 pepernoten

128 pepernoten

31 pepernoten

126 pepernoten

B. Piet heeft 405 euro in zijn spaarpot. Hij doet er 72 euro bij. Hoeveel euro zit er dan in de spaarpot?

487 euro

475 euro

485 euro

477 euro

C. Vier kinderen verdelen 36 pepernoten. Hoeveel pepernoten krijgt ieder kind?

8 pepernoten

11 pepernoten

9 pepernoten

18 pepernoten

D. De Sint leest in het grote boek. Hij is op bladzijde 90. Het grote boek heeft in totaal 164 bladzijdes. Hoeveel bladzijdes moet Sinterklaas nog lezen?

75 bladzijdes

254 bladzijdes

70 bladzijdes

74 bladzijdes

E. Piet heeft 300 pepernoten. Hij strooit 87 pepernoten. Hoeveel pepernoten houdt hij over?

313 pepernoten

307 pepernoten

213 pepernoten

207 pepernoten

F. Om kwart over 7 wil Piet Ozosnel gaan voeren. Welke tijd staat er dan op de digitale horloge van Piet?

07 : 45 uur

06 : 45 uur

07 : 15 uur

07 : 30 uur

Verhaaltjessommen

G. Piet koopt een step voor €140. Hij betaalt alleen met briefjes van €10. Hoeveel briefjes van 10 euro heeft Piet nodig?

7 briefjes

14 briefjes

10 briefjes

41 briefjes

H. In één zak passen 10 pakjes. Piet heeft 17 zakken. Hoeveel pakjes heeft Piet?

710 pakjes

170 pakjes

27 pakjes

72 pakjes

I. Sint leest in zijn grote boek op bladzijde 360. Hij wil lezen tot bladzijde 470. Hoeveel bladzijdes moet Sint nog lezen?

110 bladzijdes

90 bladzijdes

111 bladzijdes

105 bladzijdes

J. Piet spaart voor schaatsen van 97 euro. Iedere week spaart hij 30 euro. Hoeveel weken moet hij sparen om de schaatsen te kunnen kopen?

3 weken

4 weken

5 weken

6 weken

K. Er zijn 160 pakjes. De helft van de pakjes raakt kwijt. Hoeveel pakjes blijven over?

60 pakjes

80 pakjes

100 pakjes

320 pakjes

L. Drie Pieten verdelen 90 pakjes. Hoeveel pakjes krijgt iedere Piet?

30 pakjes

40 pakjes

3 pakjes

45 pakjes

Klaar? Oefen meer verhaaltjessommen op www.verhaalsommen.nl.

Verhaaltjessommen

M. Piet heeft 19 zakken. In iedere zak zitten 10 pakjes.
Hoeveel pakjes zijn dat samen?

29 pakjes

28 pakjes

190 pakjes

180 pakjes

N. Pietje Pim komt om 7 uur uit bed. Om half 9 moet hij naar school.
Over hoeveel minuten is dat?

30 minuten

60 minuten

75 minuten

90 minuten

O. Bakpiet verdeelt 48 pepernoten over 6 kinderen.
Hoeveel pepernoten krijgt ieder kind?

9 pepernoten

7 pepernoten

6 pepernoten

8 pepernoten

Klaar? Oefen meer verhaaltjessommen op www.verhaalsommen.nl.

